

Correction du brevet des collèges Polynésie septembre 2009

Durée : 2 heures

ACTIVITÉS NUMÉRIQUES

12 points

Exercice 1 : QCM

Une seule des trois réponses proposées est correcte. Entourez-la. Aucune justification n'est demandée.

	A	B	C
$\frac{3}{5} + \frac{3}{5} \times \frac{2}{3}$ est égal à :	$\frac{4}{5}$	$\frac{12}{30}$	1
L'écriture scientifique de 65 100 000 est :	$6,51 \times 10^7$	651×10^5	$6,51 \times 10^{-7}$
$(3x - 2)^2$ est égal à :	$9x^2 - 4$	$3x^2 - 12x + 4$	$9x^2 - 12x + 4$
Le nombre de diviseurs communs à 40 et 60 est :	4	6	8
Un véhicule effectue 50 km en 2 h puis 100 km en 3 h. Sa vitesse moyenne sur l'ensemble du trajet est :	27 km/h	30 km/h	32 km/h

Exercice 2

Heimiri et son frère Tehui souhaitent gâter leur maman pour la fête des mères. Ils disposent de 18 000 F et profitent des soldes.

1. Dans la vitrine d'une bijouterie, ils aperçoivent de superbes boucles d'oreilles à 12 000 F.

Après une remise de 25 %, les boucles d'oreille vaudront $12000 \text{ F} \times 0,75 = \text{9000 F}$

2. Dans la même bijouterie, ils aperçoivent une magnifique bague.

Après une remise de 20 %, le prix de la bague est de 7 840 F

Soit x son prix initial, le problème revient à résoudre $x \times 0,8 = 7840$ donc $x = \frac{7840}{0,8} = 9800$

La bague valait 9 800 F avant remise.

3. Le prix du pendentif en nacre passe de 2 800 F à 2 100 F.

Soit x le coefficient multiplicateur de diminution ($0 < x < 1$), le problème revient à résoudre $2800x = 2100$

donc $x = \frac{2100}{2800} = \frac{21}{28} = \frac{3}{4} = 0,75$.

Or $0,75 - 1 = -0,25$ donc c'est une diminution de 25%.

Exercice 3

La ville A compte 60 000 voitures et la ville B compte 18 000 voitures.


On demande à un élève ce qu'il constate. Voici ce qu'il a répondu :

« On peut dire qu'il y a plus de voitures blanches dans la ville B que dans la ville A ». A t-il raison ?

Il y a 25% de voitures blanches dans la ville A. Donc $60000 \times 0,25 = \text{15000 voitures.}$

Il y a 60% de voitures blanches dans la ville B. Donc $18000 \times 0,6 = \text{10800 voitures.}$

L'élève a tort.



ACTIVITÉS GÉOMÉTRIQUES

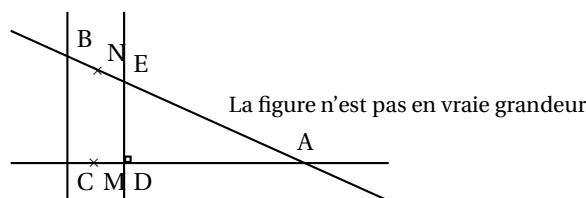
12 points

Exercice 1

L'unité de longueur est le centimètre

On donne :

- Les points C, D et A sont alignés.
- Les points B, E et A sont alignés.
- $(DE) \perp (AD)$
- $AB = 6,25$; $AC = 5$; $BC = 3,75$; $AD = 3,2$
- $M \in [AC]$ et $N \in [AB]$ tels que $AM = 4$ et $AN = 5$.



1. a. Le plus grand côté est $[AB]$.

Calculons d'une part $AB^2 = 6,25^2 = 39,0625$, d'autre part $AC^2 + BC^2 = 14,0625 + 25 = 39,0625$.

Donc $AB^2 = AC^2 + BC^2$.

D'après la réciproque du théorème de Pythagore, ABC est rectangle en C .

b. On a $(BC) \perp (AC)$ et $(DE) \perp (AC)$ (car $(AC) = (AD)$) donc $(BC) \parallel (DE)$.

2. Les droites (BE) et (CD) sont sécantes en A et $(BC) \parallel (DE)$ d'après la question précédente.

D'après le théorème de Thalès,

$$\frac{AD}{AC} = \frac{AE}{AB} = \frac{DE}{CB}$$

Donc $\frac{3,2\text{cm}}{5\text{cm}} = \frac{DE}{3,75\text{cm}}$ et alors $DE = \frac{3,2 \times 3,75}{5} \text{ cm} = 2,4 \text{ cm}$

3. Les droites (BN) et (CM) sont sécantes en A .

Calculons d'une part $\frac{AM}{AC} = \frac{4}{5}$ et d'autre part $\frac{AN}{AB} = \frac{5}{6,25} = \frac{5 \times 4}{6,25 \times 4} = \frac{20}{25} = \frac{4}{5}$.

Donc $\frac{AM}{AC} = \frac{AN}{AB}$, or les point A, M , et C sont alignés dans le même ordre que A, N et B ,

D'après la réciproque du théorème de Thalès, les droites (MN) et (BC) sont parallèles.

Exercice 2

On considère les trois solides suivants :

- la boule de centre O et de rayon SO tel que $SO = 3 \text{ cm}$
- la pyramide $SEFGH$ de hauteur 3 cm dont la base est le carré $EFGH$ de côté 6 cm
- le cube $ABCDEFGH$ d'arête 6 cm .

Ces trois solides sont placés dans un récipient.

Ce récipient est représenté par le pavé droit $ABCDIJKl$ de hauteur 15 cm dont la base est le carré $ABCD$ de côté 6 cm .

1. Volume du cube $ABCDEFGH$: $\mathcal{V}_{ABCDEFGH} = (6 \text{ cm})^3 = \boxed{216 \text{ cm}^3}$.

2. Volume de la pyramide $SEFGH$: $\mathcal{V}_{SEFGH} = \frac{1}{3} \times 3\text{cm} \times (6 \text{ cm})^2 = \boxed{36 \text{ cm}^3}$.

3. Volume de la boule : $\mathcal{V}_{boule} = \frac{4}{3} \times \pi \times (3 \text{ cm})^3 = \boxed{36\pi \text{ cm}^3 \approx 113 \text{ cm}^3}$ arrondi à l'unité.

4. Le volume occupé par les trois solides à l'intérieur du pavé ABCDIJKL en cm^3 est

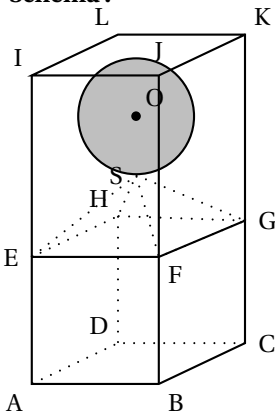
$$(216 + 36 + 36\pi) \text{ cm}^3 = (252 + 36\pi) \text{ cm}^3 \approx 365 \text{ cm}^3 \text{ arrondi à l'unité.}$$

5. Le volume restant dans le pavé est :

$$15\text{cm} \times 6\text{cm} \times 6\text{cm} - (252 + 36\pi) \text{ cm}^3 = (540 - 252 - 36\pi) \text{ cm}^3 = (288 - 36\pi) \text{ cm}^3 \approx \boxed{175\text{cm}^3} \text{ arrondi à l'unité.}$$

Or $20 \text{ cl} = 0,2 \text{ l} = 200\text{cm}^3 > 175\text{cm}^3$ On ne pourra pas verser dans ce récipient 20 cl d'eau sans qu'elle ne déborde.

Schéma :



La figure n'est pas en vraie grandeur

- Le volume d'une pyramide se calcule grâce à la formule :

$$V = \frac{1}{3} \times h \times B$$
où h est la hauteur de la pyramide et B l'aire de sa base.
- Le volume d'une boule se calcule grâce à la formule :

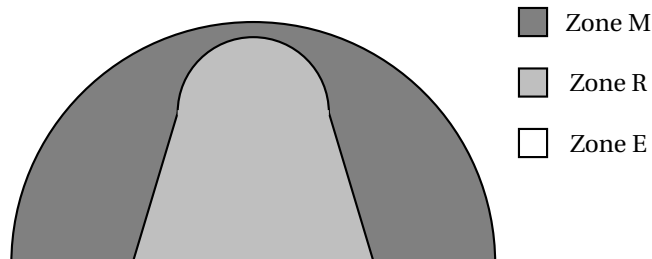
$$V = \frac{4}{3} \times \pi \times r^3$$
où r est le rayon de la boule.
- $1 \text{ dm}^3 = 1 \text{ L}$

PROBLÈME**12 points**

Les parties A, B et C sont indépendantes

PARTIE A

la moitié d'un terrain de basket a été partagée en 3 zones de jeu différentes notées R, M et E. Elles sont repérées dans la figure ci-dessous.



On a relevé ci-dessous, pour chacun des quatre quart temps du match, tous les lancers effectués depuis chaque zone.

Premier quart temps

Zone de lancer	R	M	E
Nombre de lancers	7	5	3

Second quart temps

Zone de lancer	R	M	E
Nombre de lancers	8	5	2

Troisième quart temps

Zone de lancer	R	M	E
Nombre de lancers	9	5	2

Quatrième quart temps

Zone de lancer	R	M	E
Nombre de lancers	6	5	3

1. Reproduire et compléter le tableau ci-dessous donnant le nombre total de lancers réalisés lors des quatre quart temps du match :

Zone de lancer	R	M	E	Total
Nombre de lancers	30	20	10	60

2. Calcul de fréquences

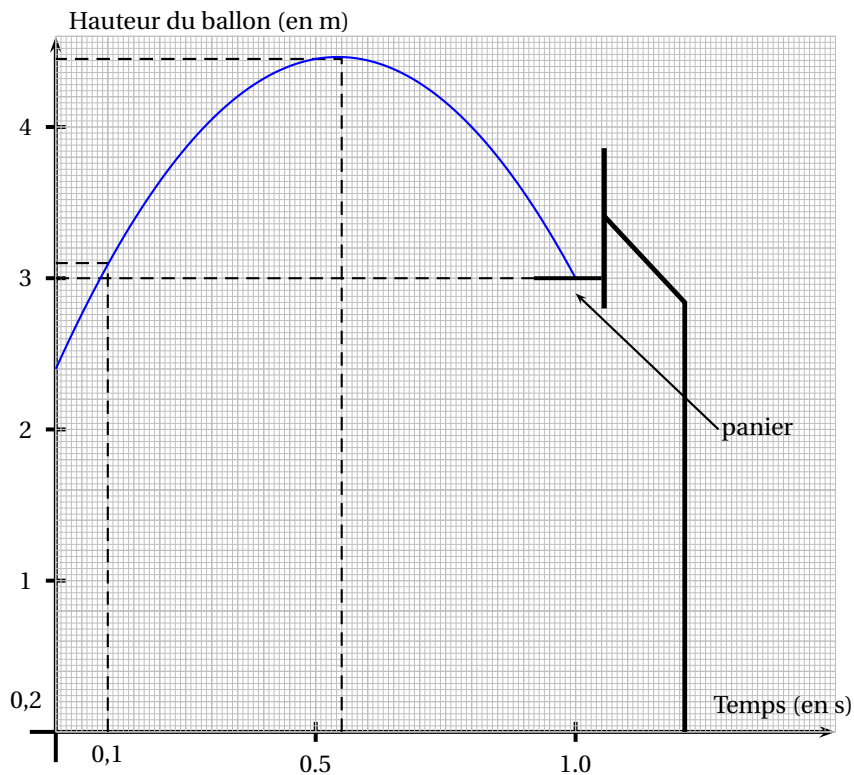
a. La fréquence des lancers effectués depuis la zone E lors du match est $\frac{10}{60} = \boxed{\frac{1}{6}}$.

b. La fréquence des lancers effectués en dehors de la zone E lors du match est $1 - \frac{1}{6} = \boxed{\frac{5}{6}}$.

3. Pendant le match, sur les 60 lancers effectués, 51 ont été réussis dont 27 depuis la zone R. On sait aussi que $\frac{3}{4}$ des lancers effectués dans la zone M ont été réussis. Nombre de lancers réussis dans la zone E : $51 - 27 - \frac{3}{4} \times 20 = \boxed{9}$

PARTIE B

Le graphique ci-dessous représente la hauteur du ballon lors d'un lancer en fonction du temps.



En vous aidant du graphique, répondre aux questions suivantes :

1. La hauteur du panier est de 3 m. (pointillés).
2. Le ballon, 0,1 s après le lancer, se trouve à environ 3,1 mètres (pointillés).
3.
 - a. La hauteur maximale atteinte par le ballon est de 4,5 m environ.
 - b. Au bout d'environ 0,55 seconde le ballon atteint cette hauteur maximale.

PARTIE C

Le joueur A passe le ballon au joueur B situé à 7,2 m de lui. La passe dure 0,4 s.

1. La vitesse moyenne du ballon est $\frac{7,2 \text{ m}}{0,4 \text{ s}} = \boxed{18 \text{ m/s}}$ lors de cette passe.
2. $\frac{18 \text{ m}}{1 \text{ s}} = 18 \times 10^{-3} \text{ km} : \left(\frac{1}{3600} \text{ h} \right) = 18 \times 3,6 \text{ km/h} = \boxed{64,8 \text{ km/h}}$.